

Thanksgiving

Πέμπτη 21.1.21 (online)

Βιβλίο μαθηματικών σελ. 99



5. Να συμπληρώσεις χρησιμοποιώντας το + ή το -.

3 ○ 2 = 5	2 ○ 6 = 8	7 ○ 3 = 4
9 ○ 4 = 5	10 ○ 3 = 7	5 ○ 5 = 10
8 ○ 3 = 5	9 ○ 3 = 6	8 ○ 2 = 10
6 ○ 4 = 10	8 ○ 8 = 0	5 ○ 4 = 9


6. Να συμπληρώσεις τους αριθμούς που λείπουν.

```
graph TD
    A[7] -- "προσέτι 3" --> B[ ]
    B -- "αφαίρ 4" --> C[ ]
    C -- "προσέτι 2" --> D[ ]
```

7. Να συμπληρώσεις τα μοίβα:

- α) 1, 4, 7, _____
- β) 0, 2, _____, 6, 8, _____
- γ) 1, 2, 4, _____

ενενήντα εννιά 99



5. Να συμπληρώσεις χρησιμοποιώντας το $+$ ή το $-$.

$$3 \text{ } \bigcirc \text{ } 2 = 5$$

$$2 \text{ } \bigcirc \text{ } 6 = 8$$

$$7 \text{ } \bigcirc \text{ } 3 = 4$$

$$9 \text{ } \bigcirc \text{ } 4 = 5$$

$$10 \text{ } \bigcirc \text{ } 3 = 7$$

$$5 \text{ } \bigcirc \text{ } 5 = 10$$

$$8 \text{ } \bigcirc \text{ } 3 = 5$$


$$9 \text{ } \bigcirc \text{ } 3 = 6$$

$$8 \text{ } \bigcirc \text{ } 2 = 10$$


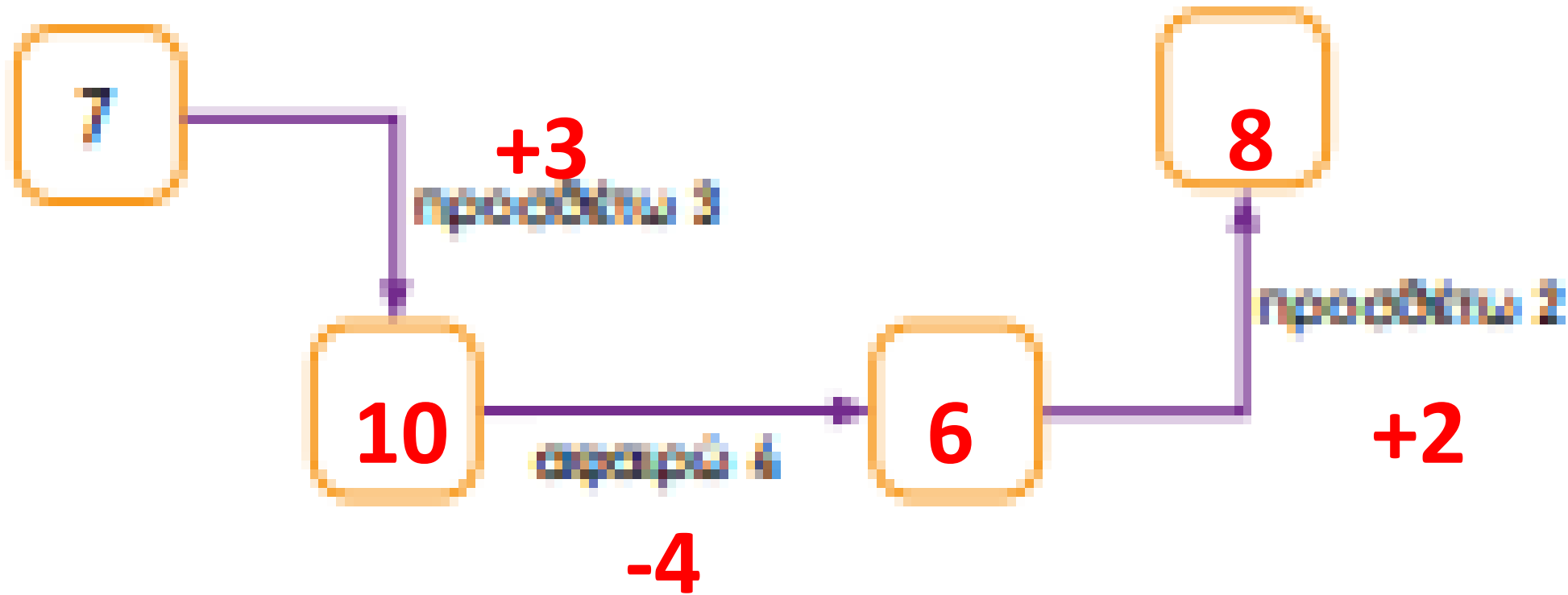
$$6 \text{ } \bigcirc \text{ } 4 = 10$$


$$8 \text{ } \bigcirc \text{ } 8 = 0$$

$$5 \text{ } \bigcirc \text{ } 4 = 9$$




6. How can I improve my existing new Address






7. How many legs does the spider have?

 $1 + 3 + 3 + 3 = 10$

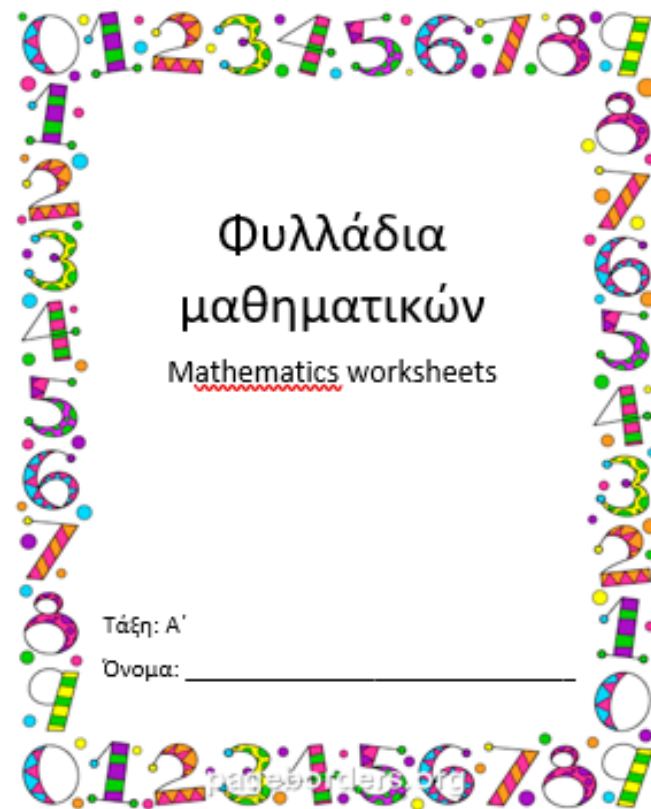
 $0 + 2 + 2 = 4$,  $6 + 2 = 10$

 $1 + 1 + 2 + 4 = 8$



Πάρε τα φυλλάδια μαθηματικών σελ. 5

Take mathematics worksheets page 5





$$3 + 1 = 4$$

$$1 + 3 = 4$$

$$4 - 3 = 1$$

$$4 - 1 = 3$$




$$3 + 2 = 5$$

$$2 + 3 = 5$$

$$5 - 3 = 2$$

$$5 - 2 = 3$$

- Από τα φυλλάδια μαθηματικών σελ. 5
- **Mathematics worksheets page 5**





Παρασκευή
22.1.21

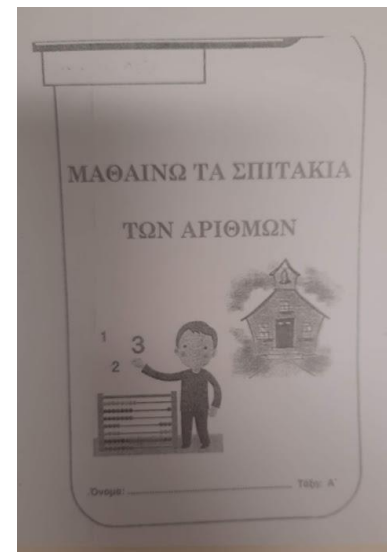


Μαθαίνω το σπιτάκι του 9- Additions of 9

1. Πάρτε μπροστά σας 9 φασόλια ή καλαμάκια ή μολύβια.

Take 9 beans or straws or pencils.


2. Πάρτε τη σελίδα με το «Όλα» και το γαλάζιο βιβλιαράκι που έχετε στο φάκελο επικοινωνίας.

Take page «Όλα» and the blue exercise book you have in your file



3. Προσπάθησε να βρεις όλους τους τρόπους για να σχηματίσεις τον αριθμό 9, όπως κάναμε και στην τάξη με άλλους αριθμούς.

Try to find the addition of 9, like we did in class with other numbers.



Μπορείτε να μου στείλετε φωτογραφία την εργασία σας στο viber.

You can send me a photo of their homework on viber.





ΜΠΡΑΒΟ!!!!