

Μαθηματικά

Δευτέρα 25.1.21
(online)

Ας μάθουμε το σπιτάκι του 9.



$$9 + 0 = 9$$

$$0 + 9 = 9$$

$$8 + 1 = 9$$

$$1 + 8 = 9$$

$$7 + 2 = 9$$

$$2 + 7 = 9$$

$$6 + 3 = 9$$

$$3 + 6 = 9$$

$$5 + 4 = 9$$

$$4 + 5 = 9$$

Βιβλίο μαθηματικών σελ. 88



ΔΙΕΡΕΥΝΗΣΗ

(α) Να χρησιμοποιήσεις κάθε κάρτα μια φορά.

0 1 2 3 4 5 6 7 8

Ποιες κάρτες μπορείς να χρησιμοποιήσεις, ώστε το άθροισμα να είναι 8;

+ + + +

Ποιες κάρτες δεν χρησιμοποίησες; Γιατί;

(β) Να χρησιμοποιήσεις κάθε κάρτα μια φορά.

0 1 2 3 4 5 6 7 8 9

Ποιες κάρτες μπορείς να χρησιμοποιήσεις, ώστε το άθροισμα να είναι 9;

+ + + + +

Ποιες κάρτες δεν χρησιμοποίησες; Γιατί;

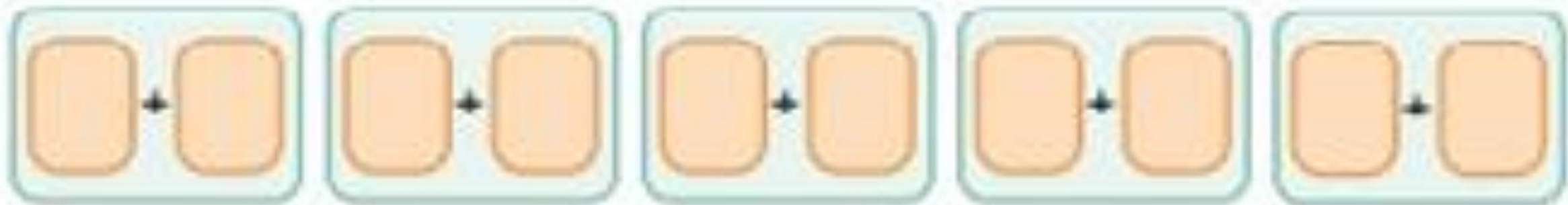
Πάμε να βρούμε τα ζευγαράκια του 9.



(B) Να χρησιμοποιήσεις κάθε κάρτα μια φορά.



Ποιες κάρτες μπορείς να χρησιμοποιήσεις, ώστε το άθροισμα να είναι 9;

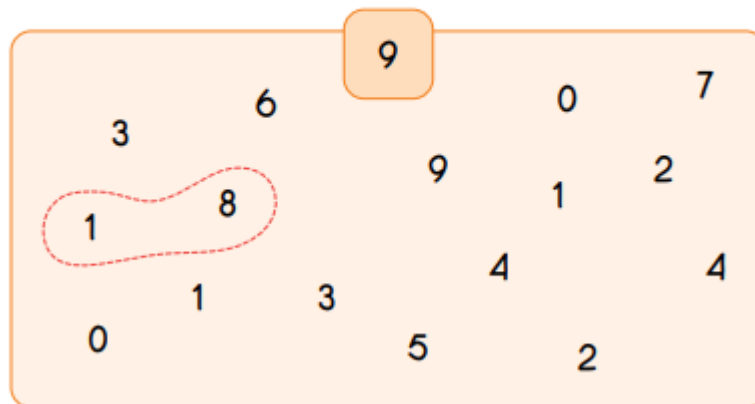


Ποιες κάρτες δεν χρησιμοποιήσες; Γιατί;

Βιβλίο μαθηματικών σελ. 90



2 (α) Να βρεις ζευγάρια αριθμών που έχουν άθροισμα 9, όπως στο παράδειγμα.



(β) Να συμπληρώσεις μια μαθηματική πρόταση για κάθε ζευγάρι που βρήκες.

$$1 + 8 = 9 \quad \square + \square = 9$$

$$\square + \square = 9 \quad \square + \square = 9$$

$$\square + \square = 9$$



2. (α) Να βρεις ζευγάρια αριθμών που έχουν άθροισμα 9, όπως στο παράδειγμα.

The grid contains the following numbers:

			9				
	3	6		0		7	
				9		2	
	1	8			1		
					4		4
		1	3				
0				5		2	



(B) Να συμπληρώσεις μια μαθηματική πρόταση για κάθε ζευγάρι που βρήκες.

$$1 + 8 = 9$$

$$\square + \square = 9$$

$$\square + \square = 9$$

$$\square + \square = 9$$

$$\square + \square = 9$$

Βιβλίο μαθηματικών σελ. 91

3.



 €8	 €3	 €4
 €2	 €6	 €5

(α) Τι μπορεί να αγοράσει ο Σάββας; Να βρεις δύο απαντήσεις.

(β) Πόσα χρήματα θα μείνουν στον Πάνο, αν αγοράσει ένα τύμπανο;

Έχω €9.

Πόσα χρήματα θα μείνουν στον Πάνο, αν αγοράσει ένα ρολόι και ένα τύμπανο;



3.

Ξόδεμα ακριβώς



Πόσα χρήματα έχει ο Σάββας?



- Πρόσεξε! Πρέπει να πληρώσει ακριβώς 8 ευρώ.

He has to pay exactly 8 euro.



Διάλεξε και γράψε 2 ιδέες!
Choose and write 2 ideas!


(α) Τι μπορεί να αγοράσει ο Σάββας; Να βρεις δύο απαντήσεις.

Ένα καράβι και ένα τύμπανο.

Ένα ανεμομυλάκι και ένα αεροπλάνο.

Ένα αυτοκινητάκι.

Δύο ζυπνητήρια.



- Από τα φυλλάδια μαθηματικών σελ. 6
- Μαθαίνω απ' έξω το σπιτάκι του 9.

- Mathematics worksheets page 6
- Learn by heart the additions of 9.

Μπορείτε να μου στείλετε φωτογραφία την εργασία σας στο viber.

You can send me a photo of their homework on viber.





Τρίτη 26.1.21

Εργασία για το σπίτι - Homework

- Από τα φυλλάδια μαθηματικών σελ. 7

- Mathematics worksheets page 7



Μπορείτε να μου στείλετε φωτογραφία την εργασία σας στο viber.

You can send me a photo of their homework on viber.



happy
Wednesday

**Τετάρτη
27.1.21**

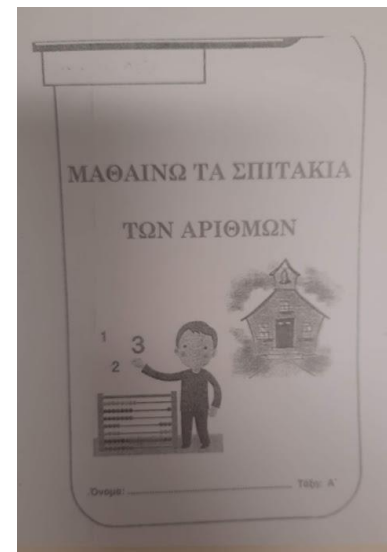


Μαθαίνω το σπιτάκι του 10- Additions of 10

1. Πάρτε μπροστά σας 10 φασόλια ή καλαμάκια ή μολύβια

Take 8 beans or straws or pencils.

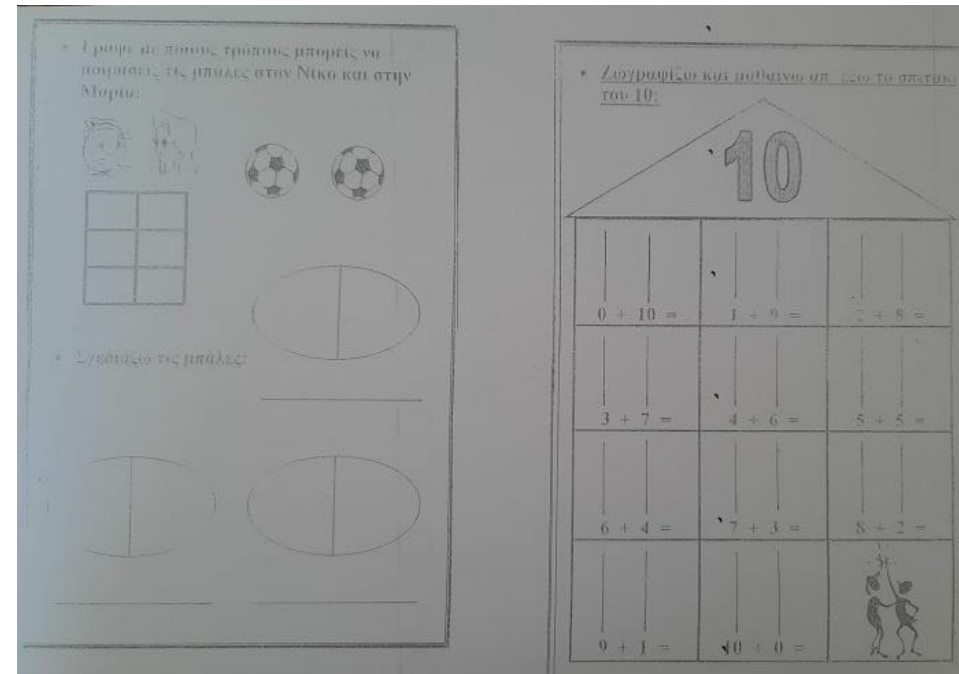

2. Πάρτε τη σελίδα με το «Όλα» και το γαλάζιο βιβλιαράκι που έχετε στο φάκελο επικοινωνίας.

Take page «Όλα» and the blue exercise book you have in your file.



3. Προσπάθησε να βρεις όλους τους τρόπους για να σχηματίσεις τον αριθμό 10, όπως κάναμε και στην τάξη με άλλους αριθμούς.

Try to find the addition of 10, like we did in class with other numbers.



Μπορείτε να μου στείλετε φωτογραφία την εργασία σας στο viber.

You can send me a photo of their homework on viber.



МПРАВО!!!!!!

