

Μαθηματικά



ΔΡΑΣΤΗΡΙΟΤΗΤΕΣ

1 (α) Να βάλεις σε κύκλο δύο αριθμούς που το άθροισμά τους είναι ίσο με 10.

8 7 3 1	5 5 2 9
9 6 5 4	6 3 2 8
0 10 3 8	9 3 1 4

1 (β) Να βάλεις σε κύκλο τρεις αριθμούς που το άθροισμά τους είναι ίσο με 10.

8 7 1 1	0 1 2 9
2 6 2 0	5 3 2 4
7 2 0 1	4 5 7 1

ΕΝΕΝΉΝΤΑ ΠΕΝΤΕ 95

Πέμπτη 28.1.21 (online)

THURSDAY

Ας μάθουμε το σπιτάκι του 10.

$$5 + 5 = 10$$

$$10 + 0 = 10$$

$$0 + 10 = 10$$

$$9 + 1 = 10$$

$$1 + 9 = 10$$

$$8 + 2 = 10$$


$$2 + 8 = 10$$


$$7 + 3 = 10$$

$$3 + 7 = 10$$

$$6 + 4 = 10$$

$$4 + 6 = 10$$





1 (α) Να βάλεις σε κύκλο δύο αριθμούς που το άθροισμά τους είναι ίσο με 10.

8 7 3 1

5 5 2 9

9 6 5 4

6 3 2 8

0 10 3 8

9 3 1 4

(β) Να βάλεις σε κύκλο τρεις αριθμούς που το άθροισμά τους είναι ίσο με 10.

8 7 1 1

0 1 2 9

2 6 2 0

5 3 2 4

7 2 0 1

4 5 7 1





ΔΙΕΡΕΥΝΗΣΗ

Ο Ηλίας έχει 10 καραμέλες. Μερικές είναι κόκκινες και μερικές είναι κίτρινες.




Πόσες κόκκινες και πόσες κίτρινες καραμέλες μπορεί να έχει ο Ηλίας; Να βρεις όλες τις περιπτώσεις.

Κόκκινες καραμέλες 	Κίτρινες καραμέλες 	Σύνολο
		10
		10
		10
		10
		10
		10
		10
		10
		10
		10
		10
		10




Σελίδα 94

Page 94



Κόκκινες καραμέλες 	Κίτρινες καραμέλες 	Σύνολο
		10
		10
		10
		10
		10
		10





- Βιβλίο μαθηματικών σελ. 94
- Μαθαίνω απ' έξω το σπιτάκι του 10.

- Mathematics books page 94
- Learn by heart the additions of 10.


Μπορείτε να μου στείλετε φωτογραφία την εργασία σας στο viber.

You can send me a photo of their homework on viber.



Παρασκευή
28.1.21





- Από τα φυλλάδια μαθηματικών σελ. 8
- Επανάληψη όλα τα σπιτάκια των αριθμών.
- Προσπάθησε να τα μάθεις απ' έξω.

- Mathematics worksheets page 8
- Revise the additions of all numbers.
- Try to learn them by heart.

Μπορείτε να μου στείλετε φωτογραφία την εργασία σας στο viber.

You can send me a photo of their homework on viber.





ΜΠΡΑΒΟ!!!!