



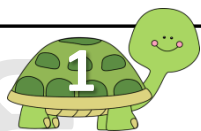
ΜΑΘΗΜΑΤΙΚΑ Β' ΤΑΞΗΣ

ΕΝΟΤΗΤΑ 4η

24β. ΒΡΙΣΚΩ ΤΗΝ ΠΡΟΠΑΙΔΕΙΑ ΤΟΥ 10


© stintaxi.com

ΟΝΟΜΑ:.....




Τα παιδιά παίζουν κρυφτό και αυτός που τα φυλάει ανεβαίνει δέκα δέκα τους αριθμούς. Μπορείς να γράψεις πώς μετράει;

0	10	20
---	----	----	-------	-------	-------	-------	-------	-------	-------	-------



Κάθε συσκευασία περιέχει 10 δίσκους. Μπορείς να υπολογίσεις πόσοι υπάρχουν συνολικά σε κάθε σειρά; Υπολόγισε με πρόσθεση και με πολλαπλασιασμό:

	10	$1 \times 10 = 10$
	$10 + 10 = 20$	$2 \times 10 = 20$
	$10 + 10 + 10 = \dots$	$3 \times 10 = \dots$
	$10 + 10 + 10 + 10 = \dots$	$\dots \times 10 = \dots$
	$10 + 10 + 10 + 10 + 10 = \dots$	$\dots \times 10 = \dots$
	$10 + 10 + 10 + 10 + 10 + 10 = \dots$	$\dots \times 10 = \dots$
	$10 + 10 + 10 + 10 + 10 + 10 + 10 = \dots$	$\dots \times 10 = \dots$
	$10 + 10 + 10 + 10 + 10 + 10 + 10 + 10 = \dots$	$\dots \times 10 = \dots$
	$10 + 10 + 10 + 10 + 10 + 10 + 10 + 10 + 10 = \dots$	$\dots \times 10 = \dots$
	$10 + 10 + 10 + 10 + 10 + 10 + 10 + 10 + 10 + 10 = \dots$	$10 \times 10 = \dots$



Πόσα χρήματα υπάρχουν σε κάθε πακέτο; Υπολόγισε με δύο τρόπους:



$$10 + 10 + 10 = 30$$

ή αλλιώς: $3 \times 10 = 30$



.....

ή αλλιώς: x =



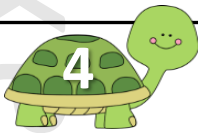
.....

ή αλλιώς: x =



.....

ή αλλιώς: x =



Πόσα χρήματα υπάρχουν σε κάθε πακέτο; Υπολόγισε μόνο με πολλαπλασιασμό:



$$2 \times 10 = 20$$




..... x =



..... x =



..... x =



Τι ταιριάζει σε κάθε στήλη; Προσπάθησε να κάνεις τις σωστές αντιστοιχίσεις:


$10 + 10 + 10 + 10 + 10$ • 7×10 • 40


$10 + 10$ • 2×10 • 70

$10 + 10 + 10 + 10 + 10 + 10 + 10$ • 5×10 • 20


$10 + 10 + 10 + 10 + 10 + 10$ • 6×10 • 50

$10 + 10 + 10 + 10$ • 4×10 • 60






Σε κάθε πορτοκαλιά υπάρχουν 10 πορτοκάλια. Μπορείς να βρεις ποια είναι κάθε φορά η σωστή απάντηση; Βάλε \checkmark στο σωστό κουτάκι και έπειτα βρες και πόσα είναι όλα τα πορτοκάλια:




- 10 x 10
- 10 + 2
- 2 x 10



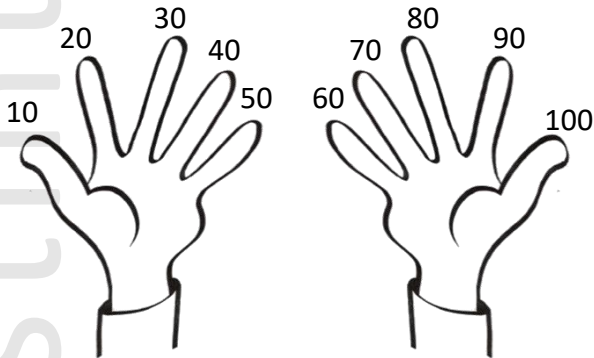
- 6 πορτοκαλιές με 10 πορτοκάλια η καθεμιά
- 10 πορτοκαλιές με 6 πορτοκάλια η καθεμιά
- 10 + 6

Όλα τα πορτοκάλια είναι

Όλα τα πορτοκάλια είναι



Λες πώς μπορείς εύκολα να υπολογίζεις την προπαίδεια του 10 χρησιμοποιώντας τα δάχτυλά σου. Έπειτα συμπλήρωσε τα κενά με τους σωστούς αριθμούς:



6 x 10 =


3 x 10 =

9 x 10 =

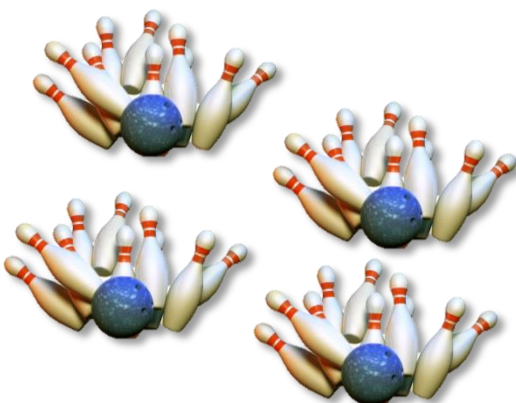
5 x 10 =

2 x 10 =

7 x 10 =



Η Λουκία παίζει μπόουλινγκ. Σε κάθε βολή ρίχνει 10 κορίνες. Μπορείς να βρεις πόσες έριξε όλες μαζί κάνοντας πολλαπλασιασμό;



Εκτιμώ: Με 4 βολές έριξε κορίνες.

Υπολογίζω:

Απαντώ: