



# Διερεύνηση



✦ Να μελετήσεις προσεκτικά τις πληροφορίες που σου δίνονται στη σελίδα 26 του βιβλίου σου και να απαντήσεις τις πιο κάτω ερωτήσεις.



1) Ποιο ζώο έχει το μεγαλύτερο ύψος;

.....

2) Πόσο πιο ψηλή είναι η Κόκκινη αλεπού από το Ρακούν;

.....

3) Ποιο ζώο έχει τη μικρότερη μάζα;

.....

4) Πόσο πιο μικρή είναι η μάζα της Κόκκινης αλεπούς από τη μάζα του Γατόπαρδου;



.....

5) Ποιο ζώο έχει τη μεγαλύτερη ουρά;

.....

6) Το μεγαλύτερο σώμα ποιο ζώο το έχει;

.....

7) Γράψε τα μήκη του σώματος του κάθε ζώου αρχίζοντας από το μεγαλύτερο.




.....



Όνοματεπώνυμο:..... Τάξη:.....




Να γράψεις την αξία του ψηφίου που δείχνει το βέλος.



65σ




\_\_\_\_\_



39σ




\_\_\_\_\_



26σ




\_\_\_\_\_



18σ



\_\_\_\_\_



72σ



\_\_\_\_\_



63σ




\_\_\_\_\_



95σ




\_\_\_\_\_



81σ



\_\_\_\_\_



77σ




\_\_\_\_\_



81σ



\_\_\_\_\_



33σ



\_\_\_\_\_



56σ



\_\_\_\_\_