



Προβλήματα Αναλογίας



1. Πόσα τριαντάφυλλα θα χρειαστεί ο ανθοπώλης για να φτιάξει 42 ανθοδέσμες, αν στην κάθε μια βάζει 6 τριαντάφυλλα;


Αν



Τότε



Εξίσωση: _____



Απάντηση: _____

2. Ο κ. Πάρις αγόρασε ένα αυτοκίνητο €8 562. Θα το εξοφλήσει σε 8 μηνιαίες δόσεις. Πόσα θα πληρώνει κάθε μήνα;

Αν



Τότε



Εξίσωση: _____



Απάντηση: _____



3. Αγόρασα 5 Η.Υ και πλήρωσα €6 530; Πόσα στοιχίζει ο κάθε ένας;

Αν →

Τότε →

Εξίσωση: _____

Απάντηση: _____




4. Μάζεψα από το ορνιθοτροφείο 846 αυγά. Στη συνέχεια τα τοποθετήσαμε σε θήκες των 6 αυγών. Πόσες θήκες χρειάστηκαν;

Αν →

Τότε →

Εξίσωση: _____

Απάντηση: _____




5. Ένας γεωργός φύτεψε 560 δέντρα στο περιβόλι του. Αν σε κάθε σειρά φύτεψε 8 δέντρα, πόσες σειρές χρησιμοποίησε;

Αν →

Τότε →

Εξίσωση: _____

Απάντηση: _____



6. Ένα κατάστημα έχει 3 υπαλλήλους. Ο μισθός του κάθε ενός είναι €1 300. Πόσα χρήματα παίρνουν και οι 3 μαζί;

Αν →

Τότε →

Εξίσωση: _____

Απάντηση: _____



7. Ο κ. Μάριος αγόρασε 26 κιβώτια πατάτες. Κάθε κιβώτιο είχε 8 kg πατάτες. Πόσα kg αγόρασε ο κ. Μάριος;

Αν →

Τότε →




Εξίσωση: _____

Απάντηση: _____

8. Ο κ. Βασίλης ο ελαιοπαραγωγός έβαλε το λάδι του σε 86 δοχεία. Το κάθε δοχείο χωρεί 7 L . Πόσα L λάδι έχει;

Αν →

Τότε →



Εξίσωση: _____

Απάντηση: _____



9. Θέλω ν' αγοράσω 5 τηλεοράσεις. Πόσα θα πληρώσω, αν η κάθε μια στοιχίζει €450;

Αν →

Τότε →

Εξίσωση: _____

Απάντηση: _____



10. Η κ. Έλενα είχε 112 τετράδια και τα μοίρασε σε 8 μαθητές της.. Πόσα τετράδια πήρε ο κάθε ένας;

Αν →

Τότε →

Εξίσωση: _____

Απάντηση: _____



11. Στο ζαχαροπλαστείο « Η νοστιμιά» υπάρχουν 279 γλυκίσματα. Ο ζαχαροπλάστης τα έβαλε σε 9 δισκάκια. Πόσα γλυκίσματα υπήρχαν σε κάθε δισκάκι;

Αν →

Τότε →

Εξίσωση: _____



Απάντηση: _____

12. Αγόρασα 3 Ηλ. Υπολογιστές και πλήρωσα €3753. Πόσα στοίχιζε ο κάθε ένας;

Αν →

Τότε →

Εξίσωση: _____



Απάντηση: _____

