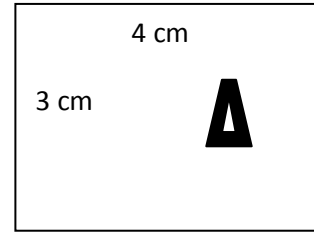

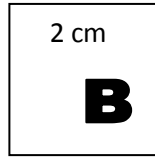
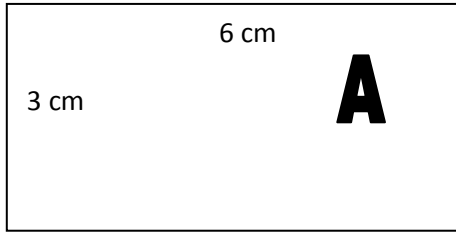


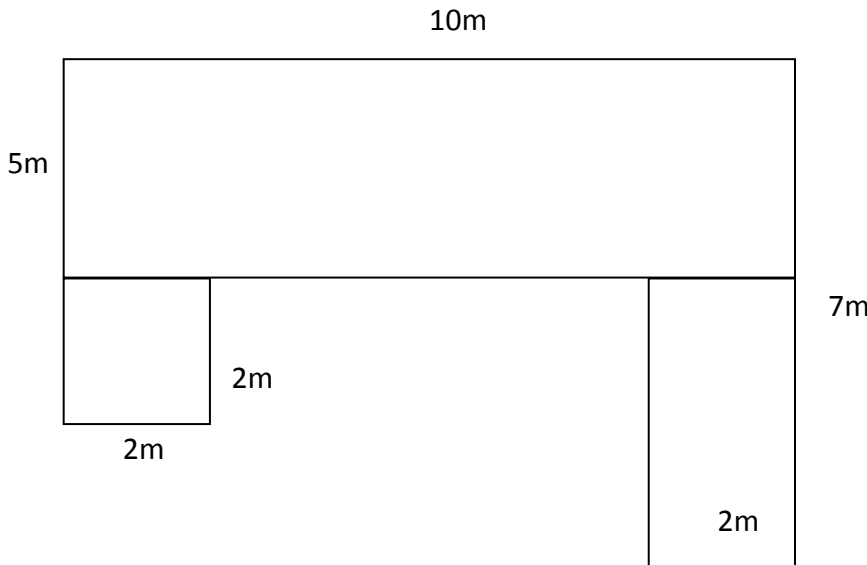
Περίμετρος - Εμβαδόν Ορθογωνίου

1. Υπολόγισε το εμβαδόν και την περίμετρο των σχημάτων και συμπλήρωσε τον πίνακα.



	A	B	Γ	Δ
Εμβαδόν				
Περίμετρος				

2. Υπολόγισε το εμβαδόν του κήπου της κυρίας Χριστίνας.

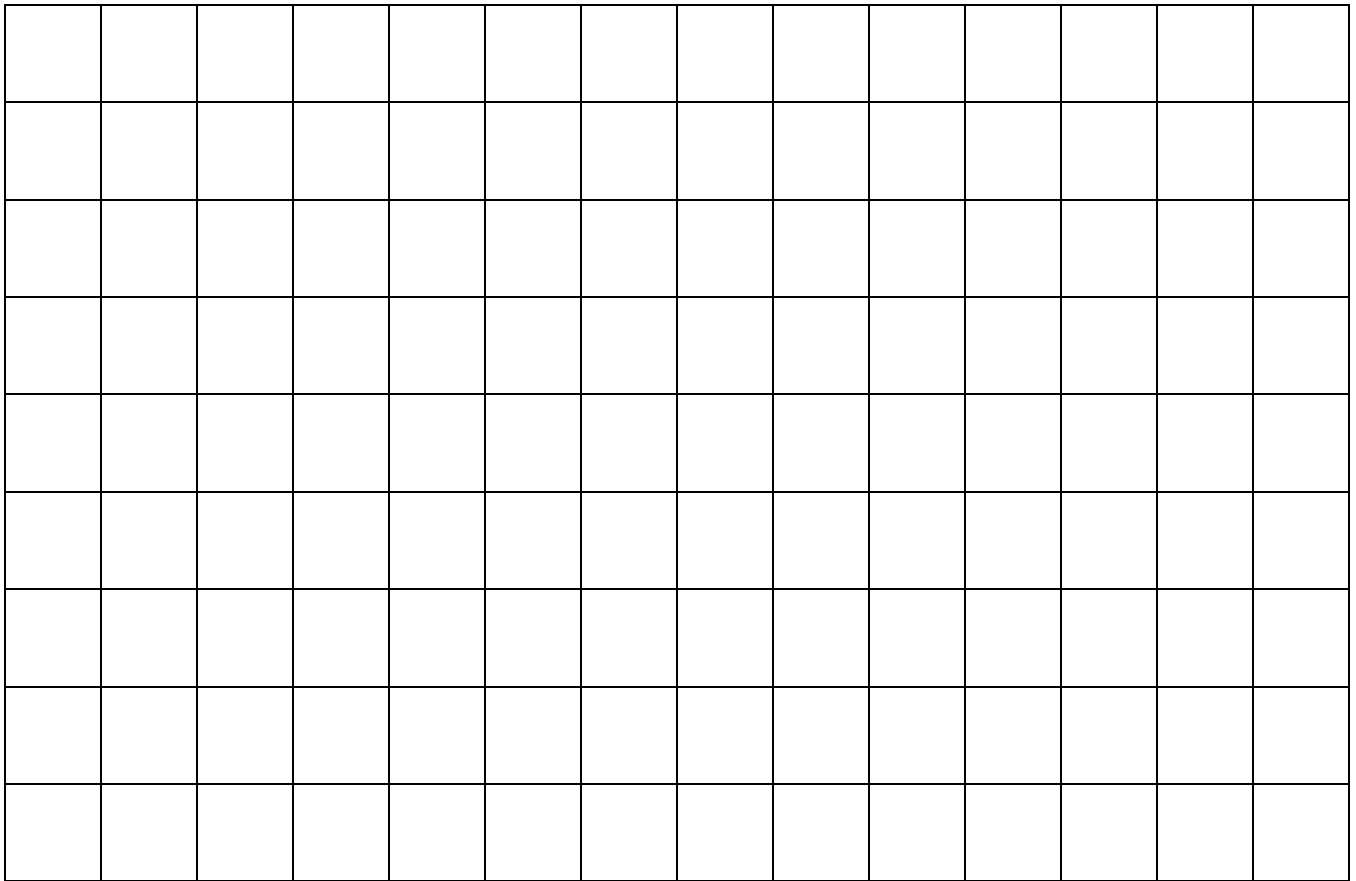


Απάντηση:

Όνομα: _____

Τάξη: _____

3. Στο πιο κάτω πλέγμα να κατασκευάσεις ένα ορθογώνιο με εμβαδόν 24 cm^2 και ένα τετράγωνο με εμβαδόν 16 cm^2 .



4. Ο κήπος του κ. Νίκου έχει μήκος 5m και πλάτος 3m. Πόση είναι η περίμετρος του κήπου;

Μαθηματική πρόταση: _____

Απάντηση: _____



5. Η τετράγωνη πισίνα της κυρίας Ελένης έχει εμβαδόν $25m^2$. Πόσο είναι το μήκος της πλευράς της πισίνας;

Μαθηματική πρόταση: _____

Απάντηση: _____