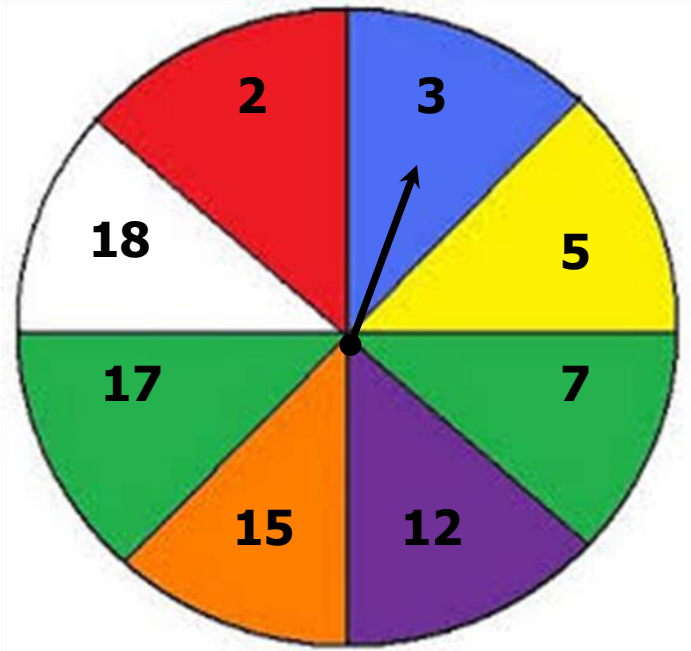



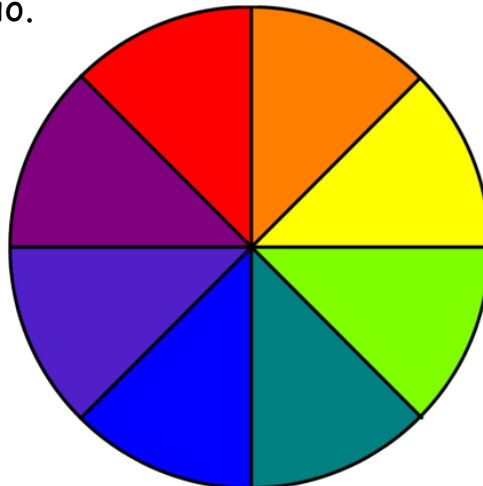
ΔΡΑΣΤΗΡΙΟΤΗΤΑ 2

Ο Κώστας και η Ελίνα θα παίξουν ένα παιχνίδι με τον τροχό της τύχης. Ο Κώστας κερδίζει έναν βαθμό, αν το βέλος δείξει πρώτο αριθμό. Η Ελίνα κερδίζει έναν βαθμό, αν το βέλος δείξει σύνθετο αριθμό.



α) Η Ελίνα υποστηρίζει ότι το παιχνίδι δεν είναι δίκαιο. Συμφωνείς; Να επεξηγήσεις.

β) Να γράψεις αριθμούς από το 1-20 στο διπλανό τροχό της τύχης, ώστε το παιχνίδι να είναι δίκαιο.



γ) Σε ένα δοχείο τοποθετούνται 5 κόκκινες, 5 κίτρινες, 5 μπλε και 5 πράσινες μπάλες. Σε κάθε χρώμα αντιστοιχεί ένας συγκεκριμένος αριθμός.



Οι μαθητές τραβούν στην τύχη μια μπάλα από το δοχείο. Κάθε μαθητής μπορεί να τραβήξει μέχρι 4 μπάλες.

Ένας μαθητής πήρε μπάλες από το δοχείο και κατέγραψε το γινόμενο μέσα στο τετράδιό του.

Να βρεις ποιες μπάλες πήρε από το δοχείο ο μαθητής ώστε το γινόμενό τους να είναι ίσο με:

- 28
- 50