










ΚΛΑΣΜΑΤΑ

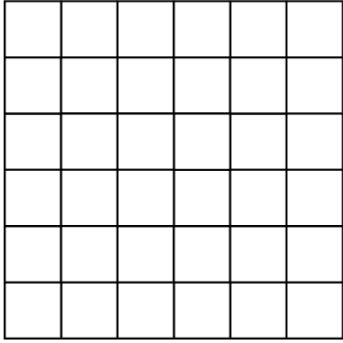
Όνομα:

Τάξη:


1. Βάλε σε κύκλο τη σωστή απάντηση:

1)		$\frac{1}{2}$	$\frac{3}{6}$	$\frac{5}{6}$	$\frac{1}{6}$	$\frac{6}{5}$
2)		$\frac{1}{4}$	$\frac{3}{4}$	$\frac{1}{6}$	$\frac{1}{3}$	$\frac{1}{5}$
3)		$\frac{1}{2}$	$\frac{3}{8}$	$\frac{1}{6}$	$\frac{1}{7}$	$\frac{6}{8}$
4)		$\frac{1}{3}$	$\frac{3}{6}$	$\frac{1}{2}$	$\frac{1}{5}$	$\frac{1}{4}$
5)		$\frac{4}{6}$	$\frac{5}{6}$	$\frac{4}{5}$	$\frac{1}{6}$	$\frac{3}{5}$
6)		$\frac{1}{3}$	$\frac{1}{4}$	$\frac{1}{2}$	$\frac{1}{5}$	$\frac{2}{1}$
7)		$\frac{1}{2}$	$\frac{3}{4}$	$\frac{5}{6}$	$\frac{1}{4}$	$\frac{4}{3}$
8)		$\frac{1}{6}$	$\frac{2}{3}$	$\frac{3}{3}$	$\frac{1}{3}$	$\frac{2}{5}$
9)		$\frac{3}{5}$	$\frac{3}{4}$	$\frac{5}{4}$	$\frac{4}{6}$	$\frac{4}{5}$

1. Χρωμάτισε το μέρος του κάθε σχήματος:



Τα $\frac{5}{6}$ του τετραγώνου=



Τα $\frac{3}{4}$ του ορθογώνιου=

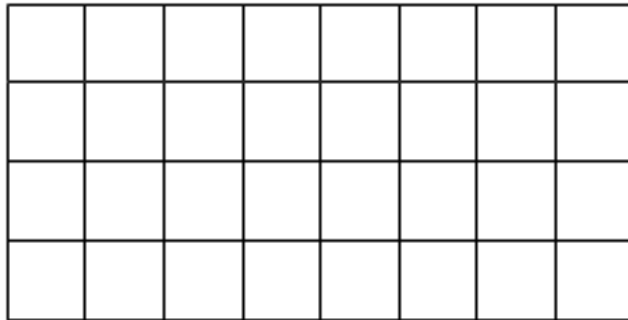
2. Χρωμάτισε στο ορθογώνιο:

➤ Το $\frac{1}{4}$ με κόκκινο =

➤ Τα $\frac{3}{8}$ με πράσινο =

➤ Τα $\frac{5}{16}$ με κίτρινο =

➤ Το υπόλοιπο μέρος με γαλάζιο=



Ερώτηση: Τι μέρος του ορθογώνιου είναι το γαλάζιο μέρος: -----

3. Βάλε σε κύκλο τη σωστή απάντηση:

- Τα παιδιά της Ε΄ τάξης του Δημοτικού Σχολείου Αγίας Φύλας είναι 50. Τα $\frac{3}{5}$ είναι αγόρια και τα υπόλοιπα κορίτσια. Τα κορίτσια είναι:

A. 15 B. 20 Γ. 25 Δ. 8 E. 30

- Στη γιορτή του δέντρου οι μαθητές του σχολείου μας φύτεψαν 100 δέντρα. Τα $\frac{3}{10}$ ήταν κυπαρίσσια και τα υπόλοιπα πεύκα.

✚ Τα κυπαρίσσια ήταν:

A. 30 B. 70 Γ. 3 Δ. 10 E. 7

✚ Τα πεύκα ήταν:

A. 30 B. 70 Γ. 3 Δ. 10 E. 7